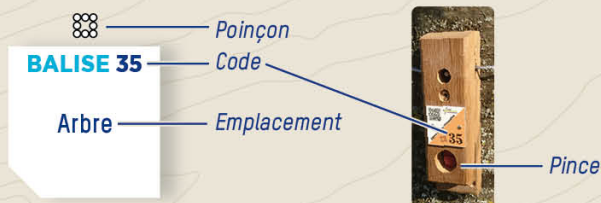


COMMENT ÇA MARCHE ?

- 1- Orienter la carte et repérer le départ.
- 2- Choisir un itinéraire pour aller du départ à la balise 1.



- 3- Utiliser la pince pour poinçonner.
- 4- Répondre à la question du dépliant.
- 5- Continuer vers les balises suivantes en respectant l'ordre.

Bonne découverte !

RECOMMANDATIONS

- Il est de la responsabilité de tout pratiquant d'estimer ses capacités à pouvoir pratiquer la course d'orientation sur cet espace.
- Évitez la cueillette, les fleurs sont plus belles dans la nature.
- Respectez les aires de stationnement, les propriétés privées et la réglementation.
- Ramassez vos déchets, ne laissez rien sur le site.
- **SECOURS** : En cas de danger, **appelez le 112** et donnez la position exacte de l'accidenté.




L'application *Suricate* permet de signaler les problèmes que vous rencontrez lors de la pratique d'un sport de nature (erreur de balisage, besoin de sécurisation...)

INFORMATIONS

- **COL DE MARCIEU**
col-marcieu.com
- **POUR ALLER PLUS LOIN** dans votre découverte de la course d'orientation prenez contact avec un club ou avec le CDCO 38.
- **COMITÉ DÉPARTEMENTAL DE COURSE D'ORIENTATION DE L'ISÈRE**
cdco38.fr



PARTICIPEZ À L'ENQUÊTE DE SATISFACTION EN SCANNANT CE QR CODE



COL DE MARCIEU

PARCOURS D'ORIENTATION PATRIMOINE

À LA DÉCOUVERTE DU COL DE MARCIEU

PARCOURS D'ORIENTATION

DIFFICULTÉ EN ORIENTATION FACILE
ACCÈS AVRIL À NOVEMBRE | 10 BALISES
3,5 KM | +120 M | +/- 1 H 30

Échelle : 1/5000*
1 cm représente
50 m sur le terrain
Dénivelé entre
2 courbes de niveau : 5 m

BALISE 31
Près des tables

1 LA FORÊT DE L'ÉTAGE MONTAGNARD

A cette altitude dans les Alpes, vous êtes à 'l'étage montagnard'. La forêt est différente de celle de la plaine.

Savez-vous ce qui la caractérise ? Regardez les arbres autour de vous pour vous aider.

- A** Des arbres à écorce lisse
- B** Un mélange entre feuillus et conifères
- C** Des arbres bien droits

BALISE 32
Intersection

2 LE HÊTRE

Le grand arbre au milieu des deux chemins est un hêtre, c'est une essence courante à cette altitude. Celui-là a probablement plus de 200 ans.

Connaissez-vous la longévité moyenne de cette espèce ?

- A** 300 ans
- B** 600 ans
- C** 1000 ans

BALISE 33
Panneau

3 LA CHAPELLE SAINT-MICHEL

La chapelle Saint-Michel a été érigée au XI^e siècle. Autrefois elle était le lieu de culte pour les habitants de Saint-Michel du Touvet. Lors d'une cérémonie particulière, une procession y menait. Savez-vous ce que les habitants venaient alors y demander ?




- A** La protection contre les avalanches
- B** La protection contre les bandes de pillards
- C** La protection contre les mauvaises récoltes

BALISE 34
Poteau bois

4 LES ARBRES

Sauriez-vous reconnaître à qui appartiennent ces feuilles ? Ils sont tous présents autour de vous sauf un.



- A** Le merisier
- B** L'aubépine
- C** L'érable champêtre
- D** L'épicéa
- E** Le hêtre
- F** Le cytise

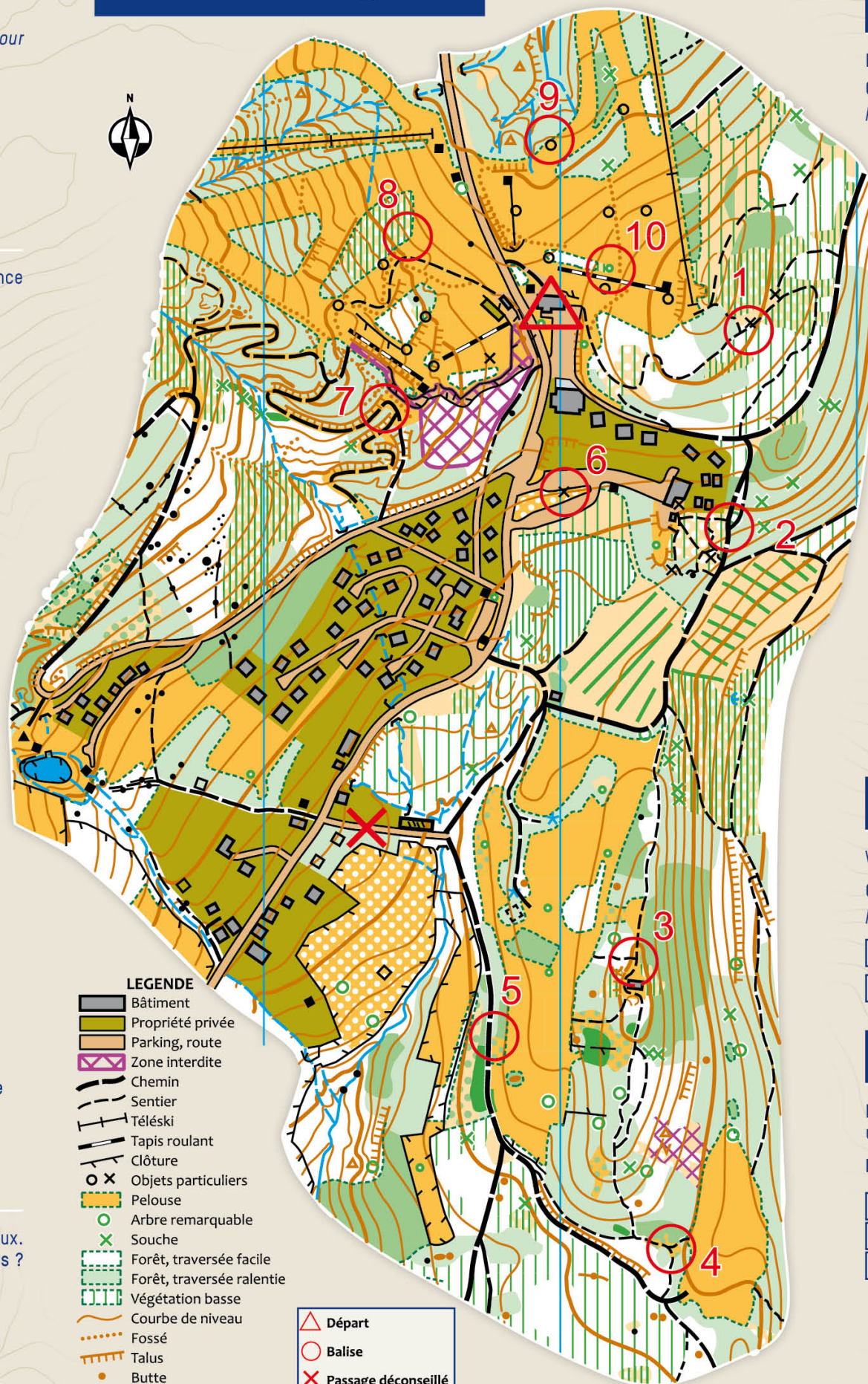
BALISE 35
Limite de végétation

5 LES TRACES

Le chemin que vous empruntez a sûrement été traversé par des animaux. Trouvez un endroit avec de la boue, humide ou sèche. Y a-t-il des traces ? Sauriez-vous déterminer à qui appartiennent celles ci-dessous ?



- A** Le sanglier
- B** Le renard
- C** Le chien



- LEGENDE**
- Bâtiment
 - Propriété privée
 - Parking, route
 - Zone interdite
 - Chemin
 - Sentier
 - Télési
 - Tapis roulant
 - Clôture
 - Objets particuliers
 - Pelouse
 - Arbre remarquable
 - Souche
 - Forêt, traversée facile
 - Forêt, traversée ralentie
 - Végétation basse
 - Courbe de niveau
 - Fossé
 - Talus
 - Butte
 - Rocher
 - Ruisseau

- Départ
- Balise
- Passage déconseillé

6 LA RÉSERVE NATURELLE

La Réserve Naturelle des Hauts de Chartreuse se trouve tout près d'ici.


Quels animaux peut-on y trouver (plusieurs réponses possibles) ? Lisez le panneau pour en savoir plus.

- A** Le chamois
- B** La galinette cendrée
- C** Le castor
- D** L'isard
- E** La chouette de Tengmalm
- F** L'aigle royal

BALISE 36
Panneau

7 LES ACTIVITÉS D'ÉTÉ

Initialement tourné vers les activités hivernales, mais impacté par des hivers de plus en plus doux, le site du Col de Marcieu s'est diversifié, avec de nombreuses activités ludiques, avec ou sans neige.



En quelle année fût créé la station ? (indice en photo)

BALISE 37
Coude chemin

8 LA MARQUE MYSTÈRE

A proximité de la balise, on peut observer plusieurs arbres morts marqués sur le tronc d'un triangle orange inversé.

A votre avis, quelle est la signification de cette marque ?

- A** L'arbre sera coupé prochainement car il est mort.
- B** L'arbre marque la limite d'une parcelle forestière.
- C** L'arbre mort est laissé sur pied pour la biodiversité.

BALISE 38
Angle de végétation

9 LES ACTIVITÉS D'HIVER

Vous êtes maintenant sur les pistes de ski alpin, à côté d'un enneigeur.

Quelles sont les autres activités de la station en hiver ? Il y a plusieurs réponses possibles.

- A** Du bobsleigh
- B** Des raquettes à neige
- C** Du tubing
- D** Du saut à skis
- E** De la luge
- F** Du ski de fond

BALISE 39
Canon à neige

10 LES PETITES ROCHES

La grande paroi rocheuse au-dessus de la station est composée de calcaire, une roche sédimentaire qui s'est formée au temps des dinosaures.

Les phrases suivantes sont-elles vraies ou fausses ?

- A** On peut y trouver des fossiles.
- B** Cette roche s'est formée au fond de la mer.
- C** Elle peut se trouver uniquement dans les montagnes.

BALISE 40
Arbre isolé

Réponses aux questions :

Carte de course d'orientation - 2023 / Réalisée par David Barranger / La reproduction de l'ensemble des supports cartographiques est autorisée pour l'usage unique de ce parcours permanent d'orientation et à l'exclusion de tout autre usage. Cet équipement a été mis en place avec l'assistance technique de la Ligue Auvergne Rhône Alpes de course d'orientation / Crédit photos : OT des Petites Roches / Crédit illustrations : Fanny Le Bagousse / Edition 2024

1-B/2-A/3-C/4-A/3-B/2-C/5-D/1-F/4/5-A/1-B/3-C/2/6-A/EtF/7-1969/8-C/9-B/C/EtF/10-A:VRAI-B:VRAI-C:FAUX