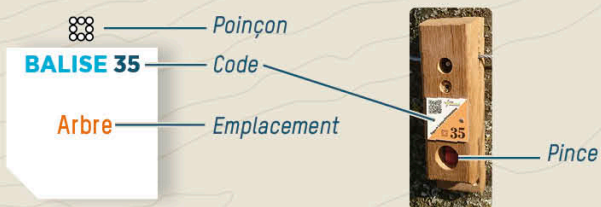


COMMENT ÇA MARCHE ?

- 1- Orienter la carte et repérer le départ.
- 2- Choisir un itinéraire pour aller du départ à la balise 1.



- 3- Utiliser la pince pour poinçonner.
- 4- Répondre à la question du dépliant.
- 5- Continuer vers les balises suivantes en respectant l'ordre.

Bonne découverte !

RECOMMANDATIONS

- Assurez-vous de votre équipement et des conditions météorologiques avant votre départ.
- Respectez les aires de stationnement, les propriétés privées et la réglementation.
- Ramassez vos déchets, ne laissez rien sur site.
- Evitez la cueillette, les fleurs sont plus belles dans la nature.



L'application Suricate permet de signaler les problèmes que vous rencontrez lors de la pratique d'un sport de nature (erreur de balisage, besoin de sécurisation...)

INFORMATIONS

- **OFFICE DE TOURISME COEUR DE CHARTREUSE**
Tel : 04 76 88 62 08 ■ destinationchartreuse.fr
- **MAIRIE DE SAINT-PIERRE DE CHARTREUSE**
Tel : 04 76 88 60 18 ■ saintpierredechartreuse.fr
- **POUR ALLER PLUS LOIN** dans votre découverte de la course d'orientation prenez contact avec un club ou avec le CDCO 38.
- **COMITÉ DÉPARTEMENTAL DE COURSE D'ORIENTATION**
www.cdco38.fr



PARTICIPEZ À L'ENQUÊTE DE SATISFACTION EN SCANNANT CE QR CODE



LES ESPACES LOISIRS ORIENTATION EN ISÈRE

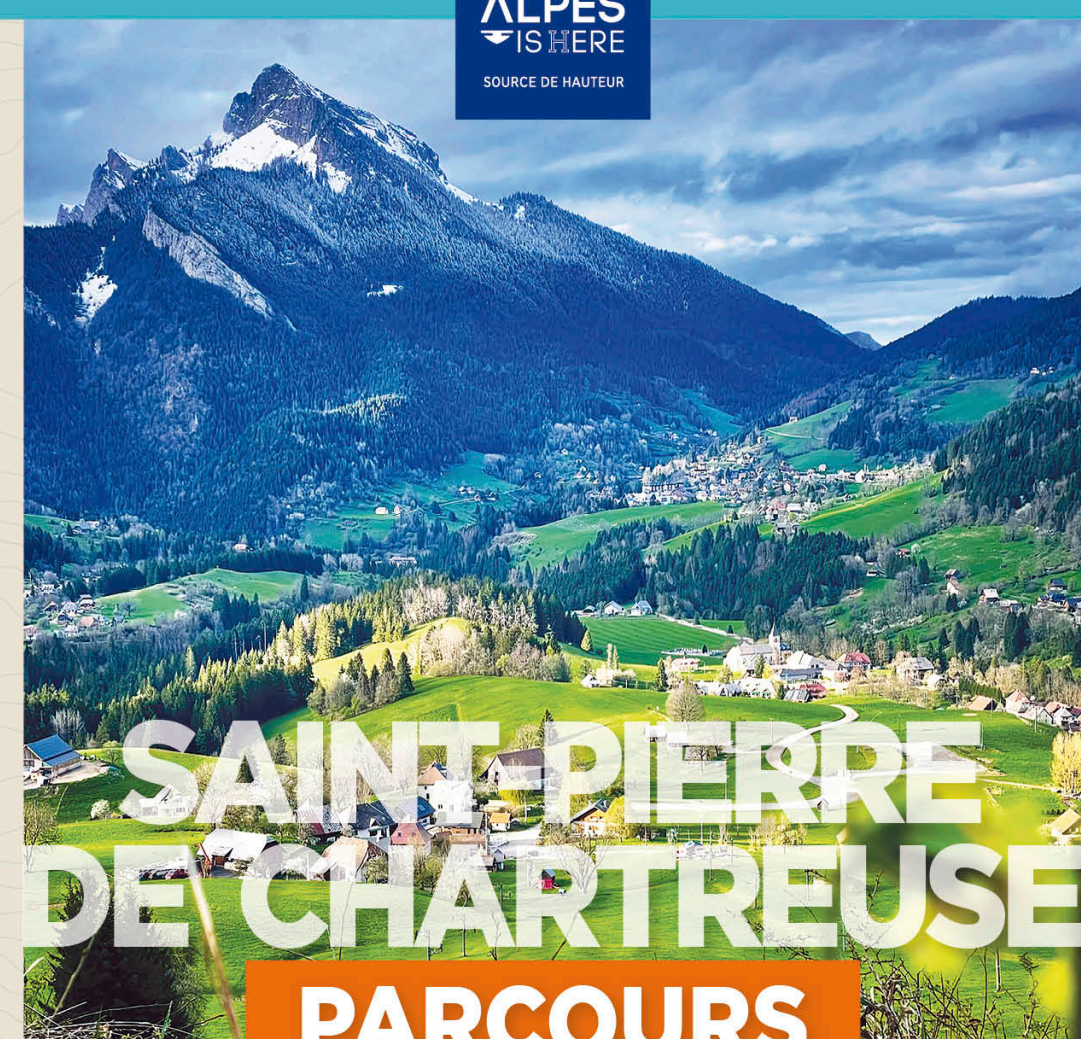


Toutes les activités outdoor de l'Isère sont accessibles depuis ISÈRE OUTDOOR

Application mobile téléchargeable sur



ZOOM SUR les Espaces Loisirs Orientation de la commune DE SAINT-PIERRE DE CHARTREUSE



SAINT-PIERRE DE CHARTREUSE

PARCOURS D'ORIENTATION

LUDIQUE

à la découverte DE SAINT-HUGUES DE CHARTREUSE



PARCOURS D'ORIENTATION

DIFFICULTÉ EN ORIENTATION FACILE

ACCÈS 4 SAISONS

4 KM | +/- 1 H 30

+100 M | 12 BALISES

Échelle: 1/7500°
1 cm représente: 75 m sur le terrain
Dénivelé entre
2 courbes de niveau: 5 mètres



LEGENDE

Balise	Arbres isolés
Bâtiment	Forêt, traversée facile
Propriété privée	Forêt, traversée difficile
Route	Courbes de niveau
Chemin	Talus
Servier	Ruissseau
Clôture	Fontaine
Monument	Réservoir
Téléski	
Prairie	

Carte de course d'orientation 2024 / Réalisation : David Barranger / La reproduction de l'ensemble des supports cartographiques est autorisée pour l'usage unique de ce parcours permanent d'orientation et à l'exclusion de tout autre usage. Cet équipement a été mis en place avec l'assistance technique de la Ligue Auvergne Rhône Alpes de course d'orientation / Crédit photo (couverture) : Jérôme Baris - @saint_pierre_de_chartreuse / Crédit illustrations : Fanny Le Bagousse / Edition 2024

BALISE 61
Piquet

1 MONUMENT BRUNO ARRAGON

Cette sculpture en bois a été réalisée en 2006 par le sculpteur Guy Lafond. Que représente le sac-à-dos ?

- A** Un sac de randonneur
- B** Un cartable
- C** L'équipement d'un soldat

BALISE 62
Près de la croix

2 CROIX DE GÉRENTIÈRE

Autrefois, il était habituel d'ériger une croix dans chaque hameau. Elle servait à se souvenir d'un événement particulier ou pour que les habitants puissent prier quand l'église était trop éloignée. En quel matériau est construite cette croix ?

- A** Pierre
- B** Béton
- C** Bois

BALISE 63
Bassin

3 PAYSAGE

La commune de Saint-Pierre de Chartreuse est entourée de plusieurs montagnes. Si la météo le permet, tu peux apercevoir ici trois sommets : un au Sud, un à l'Ouest, et un au Nord. Quel est leur nom ?

- A** Chamefroide, Vilain Som, Ultra Som
- B** Chamechaude, Charmant Som, Grand Som
- C** Chame Som, Grand Charmant, Chaude Som

BALISE 64
Panneau

4 SCULPTURE

Cette sculpture-fontaine rappelle le temps où les maisons n'avaient pas l'eau courante. Il y avait plusieurs fontaines dans les hameaux où les habitants prenaient l'eau nécessaire pour la vie quotidienne. Quel est le poids du bloc de marbre qui a servi à sculpter cette fontaine (tu trouveras la réponse en lisant le panneau à côté de la sculpture) :



BALISE 65
Poteau bois

5 SOUCHE D'ARBRE

On ne sait pas en quelle année cet arbre a été coupé mais en comptant les cercles sur la partie coupée, on connaît l'âge qu'il avait quand il a été scié : environ 70 ans. Comment appelle-t-on ces cercles ?

- A** Cernes
- B** Anneaux
- C** Ronds

BALISE 66
Pylône téléski

6 STATION LES ÉGAUX


Tu peux voir les pylônes de plusieurs remontées mécaniques. Si tu viens l'été, tu verras un jardin potager près de l'un de ces pylônes. Le propriétaire récolte ses légumes et retire les piquets avant l'hiver. Quels sports pratique-t-on ici l'hiver ?

- A** Ski alpin
- B** Ski de fond
- C** Luge
- D** Bobsleigh

7 ARCHITECTURE

Tu es passé devant une grange traditionnelle de la Chartreuse qui sert à ranger le foin et à abriter les animaux. Pourquoi l'un des côtés du toit (un pan) est-il plus grand que l'autre ?

- A** Pour abriter l'entrée
- B** Pour servir de tremplin de saut à ski
- C** Pour déjeuner à l'ombre



BALISE 67
Angle clôture

8 BUISSONNETS

Les panneaux jaunes permettent de s'orienter pendant les randonnées et donnent des indications pour parvenir à un lieu donné. Quelle est la distance entre Les Égaux et Cheriieu et combien de temps faut-il pour la parcourir ?

BALISE 68
Jonction de chemins

9 PRAIRIE

L'été, on voit parfois du bétail (vaches, moutons, chèvres) dans les prairies mais parfois, l'herbe est coupée pour en faire du foin (herbe sèche). À quoi sert ce foin ?



BALISE 69
Épicéa

- A** À construire des maisons pour les Trois Petits Cochons
- B** À nourrir le bétail en hiver
- C** À faire des meules pour y cacher une aiguille

10 PAYSAGE

Il y a 53 hameaux à Saint-Pierre de Chartreuse dont Gerbetière et Mourinas que tu vois en face de toi. Tu en as traversé d'autres pendant le parcours dont certains sont indiqués sur la carte. Parmi les hameaux ci-dessous, quel est l'intrus ?

BALISE 70
Poteau bois

- A** Marchandière
- B** Les Epallets
- C** Brunelotière
- D** Brévardière

11 QUEL EST SON NOM ?

Tu viens de dépasser un grand bâtiment avec des encadrements de fenêtres verts. Il sert à accueillir des groupes d'enfants pour des séjours sportifs et de découverte de la nature. Résous la charade pour découvrir le nom du bâtiment :

BALISE 71
Pylône béton

Mon 1^{er} est un petit félin
Mon 2^e est bu par mon 1^{er}
Mon 3^e est égal à 1 + 1
Mon 4^e est le nom du hameau

12 MUSÉE ARCABAS

Entre dans l'église devenue un musée depuis qu'Arcabas l'a décorée à partir de 1952. Le chœur de l'église est décoré de plusieurs toiles peintes rouges, noires, blanches. Combien y-a-t-il de personnes attablées ?

BALISE 72
Arbre

Le musée Arcabas est ouvert tous les jours de 10h à 13h et de 14h à 18h. Il est fermé le mardi.

Réponses aux questions :

1 - C / 2 - A / 3 - B / 4 - 2,5 tonnes / 5 - A / 6 - A et C / 7 - A / 8 - 1,5 km et 20 min / 9 - B / 10 - C / 11 - Chat-Lait-deux-Saint-Hugues / 12 - Treize